

SERIE D'EXERCICES N° 30 : FLUX DU CHAMP ELECTROSTATIQUE, THEOREME DE GAUSS DIPOLE ELECTROSTATIQUE

Distribution à symétrie plane.

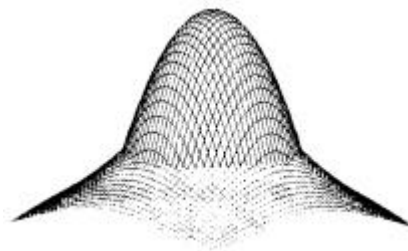
Exercice 1.

1. Déterminer le champ créé en un point M de l'espace par une couche plane infinie d'épaisseur e et de charge volumique ρ uniforme.
2. En déduire le potentiel $V(M)$ en faisant le choix $V = 0$ sur le plan médian de la distribution.
3. Donner la représentation graphique de $E(M)$ et de $V(M)$.

Distribution à symétrie cylindrique.

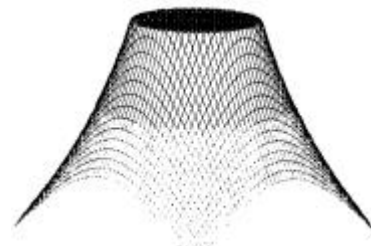
Exercice 2.

1. Déterminer le champ créé en un point M de l'espace par un cylindre d'axe (Oz) , de rayon R , à l'intérieur duquel se trouve une charge volumique uniformément répartie ρ .
2. En déduire le potentiel $V(M)$ à une constante près.
3. Donner la représentation graphique de $E(M)$ et de $V(M)$. Vérifier la concordance avec la représentation symbolique « en relief » du potentiel obtenue avec Maple et donnée ci-contre.



Exercice 3.

1. Déterminer le champ créé en un point M de l'espace par un cylindre d'axe (Oz) , de rayon R , portant la charge surfacique uniforme σ .
2. En déduire le potentiel $V(M)$ à une constante près.
3. Donner la représentation graphique de $E(M)$ et de $V(M)$. Vérifier la concordance avec la représentation symbolique « en relief » du potentiel obtenue avec Maple et donnée ci-contre.



Distribution à symétrie sphérique.

Exercice 4.

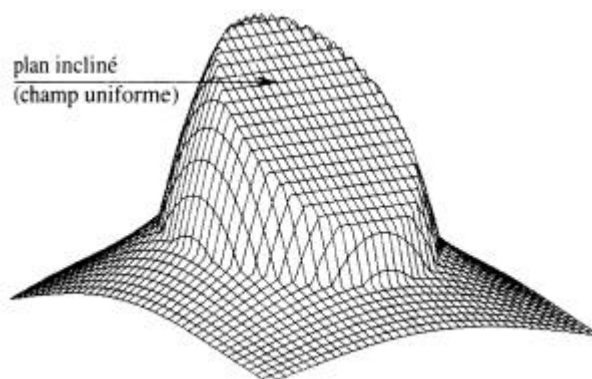
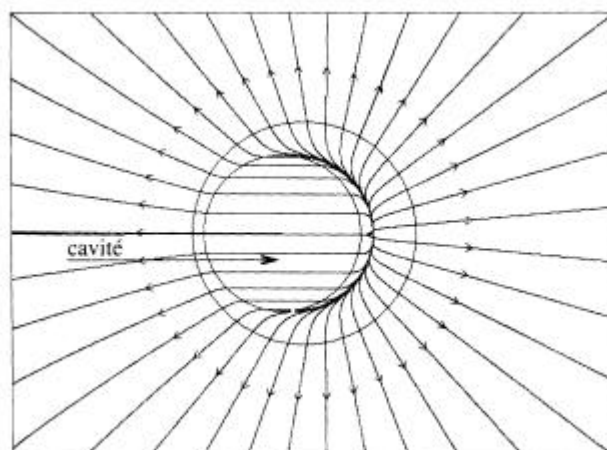
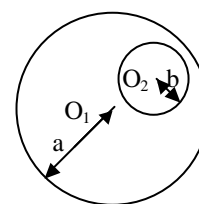
1. Déterminer le champ créé en un point M de l'espace par une boule de rayon R à l'intérieur de laquelle se trouve une charge volumique uniformément répartie ρ .
2. En déduire le potentiel $V(M)$ en fixant $V(\infty) = 0$.
3. Donner la représentation graphique de $E(M)$ et de $V(M)$.

Principe de superposition.

Exercice 5.

Une boule de rayon a portant la charge volumique uniformément répartie ρ possède une cavité sphérique de rayon b vide de charges.

1. Déterminer le champ dans la cavité.
2. Interpréter les représentations des lignes de champ et des équipotentielles données ci-dessous :



Analogie entre le champ électrostatique et le champ gravitationnel.

Exercice 6.

Un astre sphérique de rayon R possède une répartition de masse à symétrie sphérique.

Quel est le champ gravitationnel créé à une distance r supérieure à R de son centre ? (On appliquera le théorème de Gauss.)

Dipôle électrostatique.

Exercice 7 : force subie par un dipôle dans un cas unidimensionnel.

Un dipôle placé en un point de coordonnées cartésiennes (x, y, z) est soumis au champ $\vec{E} = E(x) \vec{u}_x$.

Calculer, à l'aide du modèle du doublet, puis à l'aide de son expression, la force subie par le dipôle lorsque :

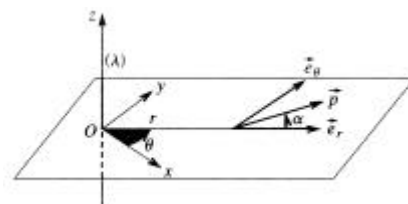
- \vec{p} est parallèle à \vec{u}_x ;
- \vec{p} est perpendiculaire à \vec{u}_x .

Exercice 8 : actions exercées par un fil infini chargé sur un dipôle.

Déterminer les actions mécaniques exercées par le champ d'un fil rectiligne infini portant la charge linéique uniforme λ sur un dipôle placé en M dans un plan perpendiculaire au fil comme indiqué ci-contre.

Pour déterminer la force, on utilisera successivement les deux méthodes suivantes :

- en utilisant l'expression : $\vec{F} = (\vec{p} \cdot \vec{\text{grad}}) \vec{E}$;
- en utilisant l'expression : $\vec{F} = \vec{\text{grad}}(\vec{p} \cdot \vec{E})$ à $\vec{p} = \text{cte}$.

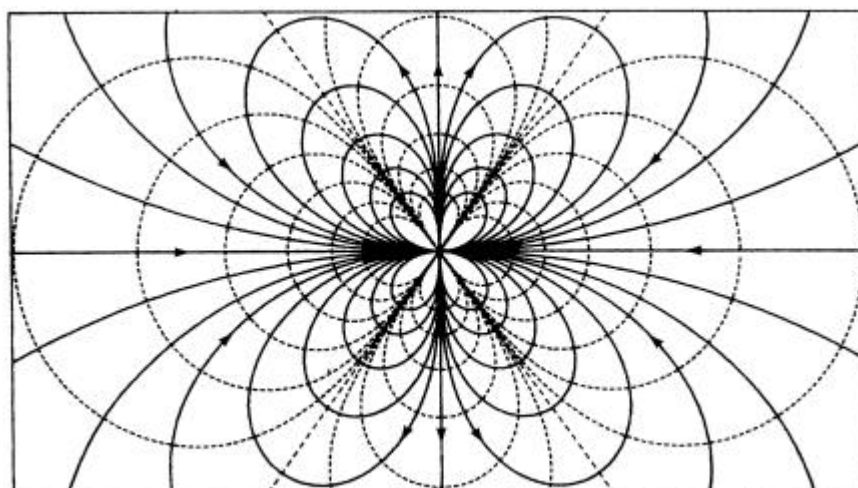


Exercice 9 : potentiel et champ d'un quadripôle.

En un point O est placée la charge $+2q$. Deux points A et B symétriques par rapport à O portent chacun la charge $-q$. On pose $OA = OB = a$.

On se propose d'étudier le champ créé par cette distribution en un point M éloigné. On pose $OM = r \gg a$ et $\theta = (\overline{OA}, \overline{OM})$.

- Quel est le moment dipolaire de cette distribution ?
- Exprimer le potentiel V en M en fonction de r et de θ .
- Calculer les composantes radiale et orthoradiale du champ en M .
- Etablir l'équation polaire des lignes de champ. Interpréter la carte donnée ci-dessous :



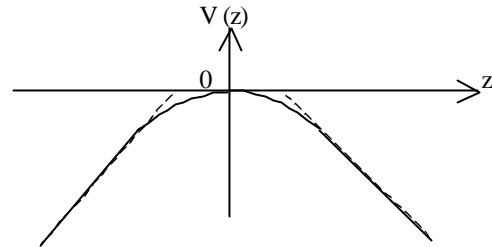
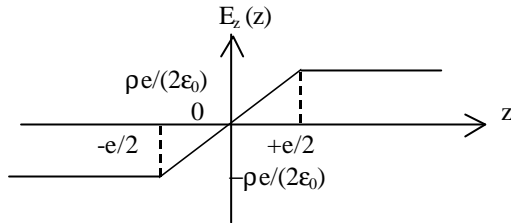
Réponses (les vecteurs sont ici notés en caractères gras>).

Exercice 1.

1) $E_z(z) = \frac{\rho z}{\epsilon_0}$ si $|z| < e/2$; $E_z(z) = \frac{\rho e}{2\epsilon_0}$ si $z > e/2$; $E_z(z) = -\frac{\rho e}{2\epsilon_0}$ si $z < -e/2$.

2) $V(z) = -\frac{\rho z^2}{2\epsilon_0}$ si $|z| < e/2$; $V(z) = -\frac{\rho e}{2\epsilon_0} (|z| - \frac{e}{4})$ si $|z| > e/2$.

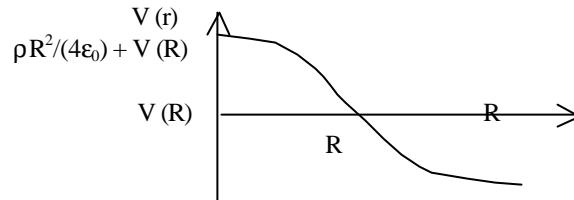
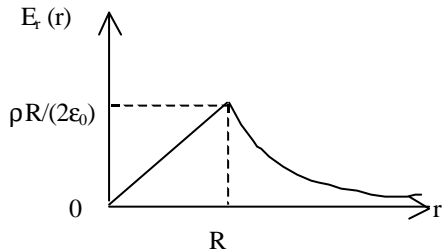
3)



Exercice 2.

1) Pour $r < R$: $E_r(r) = \frac{\rho r}{2\epsilon_0}$; pour $r > R$: $E_r(r) = \frac{\rho R^2}{2\epsilon_0 r}$.

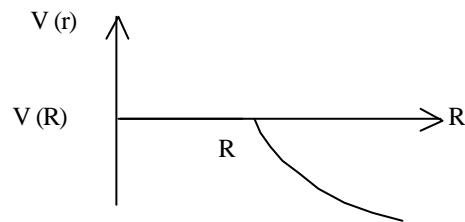
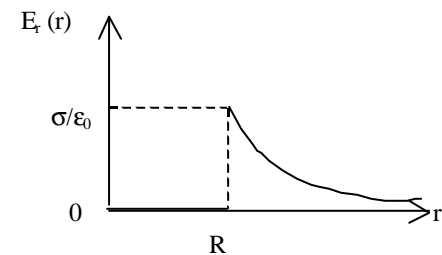
2) Pour $r < R$: $V(r) = \frac{\rho}{4\epsilon_0} (R^2 - r^2) + V(R)$; pour $r > R$: $V(r) = -\frac{\rho R^2}{2\epsilon_0} \ln \frac{r}{R} + V(R)$.



Exercice 3.

1) Pour $r < R$: $\mathbf{E} = \mathbf{0}$; pour $r > R$: $E_r(r) = \frac{\sigma R}{\epsilon_0 r}$.

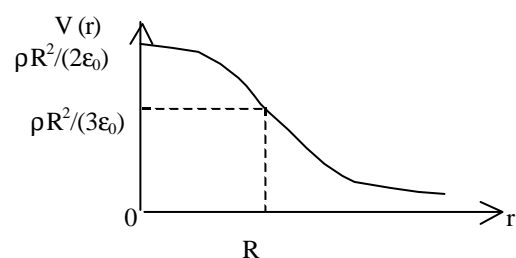
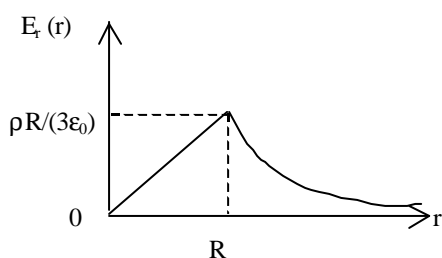
2) Pour $r < R$: $V(r) = V(R)$; pour $r > R$: $V(r) = -\frac{\sigma R}{\epsilon_0} \ln \frac{r}{R} + V(R)$.



Exercice 4.

1) Pour $r < R$: $E_r(r) = \frac{\rho r}{3\epsilon_0}$; pour $r > R$: $E_r(r) = \frac{\rho R^3}{3\epsilon_0 r^2}$.

2) Pour $r < R$: $V(r) = -\frac{\rho}{2\epsilon_0} (r^2/3 - R^2)$; pour $r > R$: $V(r) = \frac{\rho R^3}{3\epsilon_0 r}$.



Exercice 5.

$$1) \mathbf{E}(M) = \frac{\rho}{3 \epsilon_0} \mathbf{O}_1 \mathbf{O}_2 .$$

Exercice 6.

$$G_r(r) = \frac{GM}{r^2} .$$

Exercice 7.

$$1) \mathbf{F} = p \frac{dE(x)}{dx} \mathbf{u}_x . 2) \mathbf{F} = \mathbf{0} .$$

Exercice 8.

$$1) \mathbf{F} = \frac{\lambda p}{2 \pi \epsilon_0 r^2} (-\cos \alpha \mathbf{u}_r + \sin \alpha \mathbf{u}_q) . 2) \mathbf{G} = -\frac{\lambda p \sin \alpha}{2 \pi \epsilon_0 r} \mathbf{u}_z .$$

Exercice 9.

$$1) \mathbf{p} = \mathbf{0} . 2) V(M) = \frac{q a^2}{4 \pi \epsilon_0 r^3} (1 - 3 \cos^2 \theta) . 3) E_r = \frac{3 q a^2}{4 \pi \epsilon_0 r^4} (1 - 3 \cos^2 \theta) \text{ et } E_\theta = -\frac{6 q a^2}{4 \pi \epsilon_0 r^4} \cos \theta \sin \theta .$$

$$4) r = \mu |\sin \theta| \sqrt{|\cos \theta|} .$$